





Voici cinq silhouettes du dauphin et de ses ancêtres.  
Peux-tu les remettre dans l'ordre de leur évolution  
du plus ancien au plus récent ?

A : PROTOCETE



55 millions d'années

B : DORUBON




48 millions d'années

C : DAUPHIN ACTUEL




45 millions d'années

D : MESONYX



40 millions d'années

E : ZEUGLON




An 2000







Voici différentes représentations de dauphins à travers les siècles et dans différentes civilisations. Relie les dessins aux époques auxquelles ils correspondent.



An 2000



500 avant J-C



Moyen-Age



1400 avant J-C